

రాజీవ్ విద్యామిషన్ (యస్.యస్.ఎ) ఆంధ్రప్రదేశ్ హైదరాబాద్

(నమూనా ప్రశ్నాపత్రం) జనవరి 2013

సంగ్రహణాత్మక మదింపు-2

విషయం : గణితం

తరగతి : 1వ తరగతి

విద్యార్థి పేరు : _____

విద్యా ప్రమాణం	సమస్యాసాధన					కార్యాకారణ చింతన					వ్యక్తపరచడం			సంధాన పరచడం			ప్రాతినిధ్యపరచడం
	2	3	4	5	6	1	7	8	9	10	11	12	13	14	15	16	17
గ్రేడు																	
మొత్తం గ్రేడు																	

1. మాఖిక పరీక్ష

అ) '60' సంఖ్యను చదవండి.

ఆ) '8' కి సరిపడు వస్తువులను చూపండి.

ఇ) 3 గోళీలకు, 2 గోళీలు కలిపితే మొత్తం గోళీలు ఎన్ని?

ఈ) ఒక గులాబీ చెట్టుకు నాలుగు పూలు కలవు. నాలుగు పూలను కోయగా చెట్టుకు మిగిలిన పూలు ఎన్ని?

రాత పరీక్ష

(కింది ఖాళీ గడిని సరైన సంఖ్యతో నింపండి)

2)

☆

 +

☆☆☆
☆

 =

+

=

3)
$$\begin{array}{r} 16 \\ - 4 \\ \hline \end{array}$$


4) $8 + 6 = \square$

5) $15 - 11 = \square$

6) $4 + 3 + 5 = \square$

7) 4,8,3,1,9 సంఖ్యలను చిన్న సంఖ్య నుండి పెద్దసంఖ్య వరకు రాయండి.

8) 10,20,30,____,____, పరిశీలించి తరువాత సంఖ్యలు రాయండి.

9) $1+1$, $2+2$, $3+1$, $1+3$ లలో జవాబు వేరుగా ఉన్న దానికి  పెట్టండి.

10) \square , 14, \square ఖాళీ గడులను సరైన సంఖ్యలతో పూరించండి.

11) 'యాభై' సంఖ్యను అంకెలలో రాయండి.

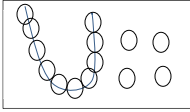
12) గోపి వద్ద 3 గోళీలు ,రమ వద్ద 5 గోళీలు కలవు, మొత్తం 8 గోళీలు.దీనిని గణిత గుర్తులను ఉపయోగించి రాయండి.

13) 18 సంఖ్యను అక్షరాలలో రాయండి.

14) జతపరచండి



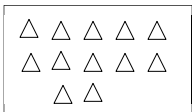
4



12

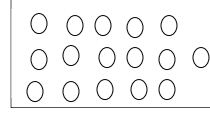
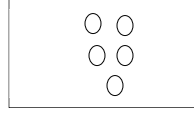
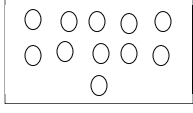


40



14

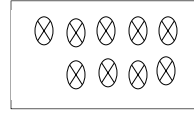
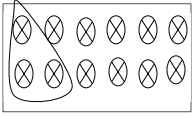
15) పరిశీలించండి. లను సరైన సంఖ్యలతో పూరించండి.



+


=

16)


 -

=

17) బొమ్మను పరిశీలించి ఏ ఆకారాలు ఎన్ని ఉన్నాయో లెక్కించి రాయండి.



=



=



=



=